

銘傳大學 98 學年度轉學生招生考試

商業設計學系

7 月 22 日 第四節

平面設計概論試題

(第 頁共 頁) (限用答案本作答)

可使用計算機 不可使用計算機

請以橫式書寫作答


1. 請將下列事件依發生的年代先後排序? (作答時以字母表示即可, 7%)

- A. Bauhaus 包浩斯成立
- B. Art Deco 裝飾藝術運動
- C. De stijl 風格派運動
- D. The Arts and Crafts Movement 工藝藝術運動
- E. Pop Art 普普風
- F. Art Nouveau 新藝術運動
- G. The Great Exhibition 世界博覽會


2. 請寫出下列作品的作者? 並說明作者與平面設計的關係或影響。

(每小題 6 分, 共 48 分)

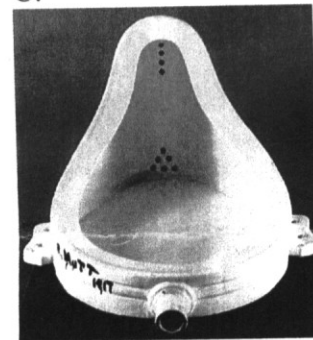
A.



B.



C.




D.




E.




F.



G.



H.



3. 請分別以簡圖方式說明色光三原色及色料三原色? (15 分)

4. 請闡述瑞士平面設計風格(Swiss Design)之精神特性? (15 分)

5. 請以 F 字母表現襯線字(Serif)、無襯線字(Sans Serif)及埃及體(Egyptian), 字體書寫於 2*2 公分見方內。(15 分)

試題完