

銘傳大學 108 學年度暑假轉學生招生考試

商品設計學系

第二節

「立體設計(含圖學)」試題

(第 1 頁共 2 頁) (限用答案本作答)


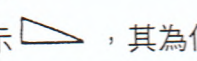
可使用計算機 不可使用計算機

一、名詞解釋(20%)

1. ArtDeco
2. Arts & Crafts Movement
3. Green Design
4. Universal Design

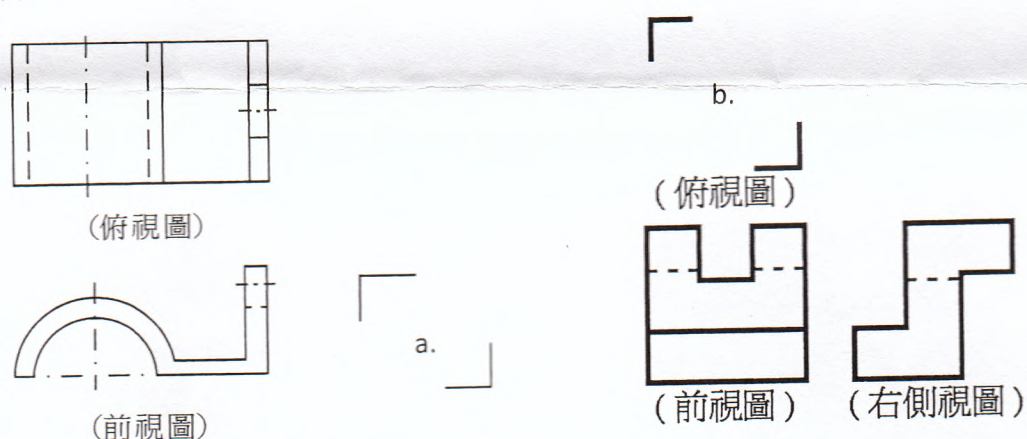
二、圖學(30%)

1. 簡答題 (10%)

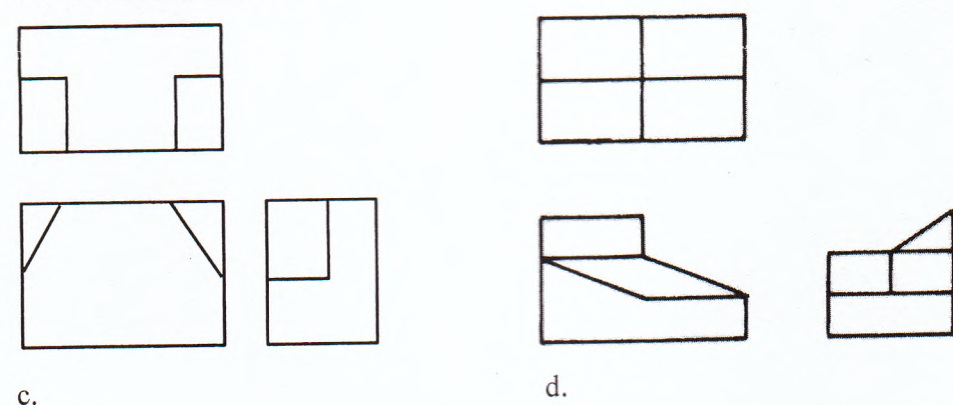
- (1) 如圖所示 ，其為何種表示法？
- (2) 如圖所示 ，其為何種符號？

2. 請畫出正確的視圖 (需標著題號，不必繪製已知視圖) (20%)

(1).



(2). 請繪出正確立體圖



評分標準-(A、B)視圖之正確性；(C~D) 立體圖正確性

請翻面

本試題係兩面印刷
Exam Printed on 2 sides.

銘傳大學 108 學年度暑假轉學生招生考試

商品設計學系

第二節

「立體設計(含圖學)」試題

(第 2 頁共 2 頁) (限用答案本作答)

可使用計算機 不可使用計算機

三、立體設計與速繪 (A3 紙作答)-藝術家具設計 (50%)

請選擇兩種以上的基本形體 (例如立方體、圓柱、圓錐、片材、線材、管材... 等等)，調整其比例、大小、厚薄、長短，將其組合設計成藝術家具，且至少包含兩種材質表現。

- (1) 設計概念表現圖：需著色，並以一點透視法呈現，表現技法形式不拘(20%)。
- (2) 三視圖：以第三角法繪製，自訂並註名圖面比例，需標註外觀主要尺寸(15%)
- (3) 設計概念說明：說明創作概念、設計特色、使用方式、材料運用...等，說明形式不拘(15%)

評分標準-(a)視圖是否正確；(b)兩點透視彩現之光影、材質、逼真度與正確度；

(c)設計概念、特色與整體美感

試題完

本試題係兩面印刷
Exam Printed on 2 sides.

試題完
End of exam