

銘傳大學 101 學年度研究所碩士在職班招生考試

財務金融學系碩士在職專班

「財務金融分析與實務」試題

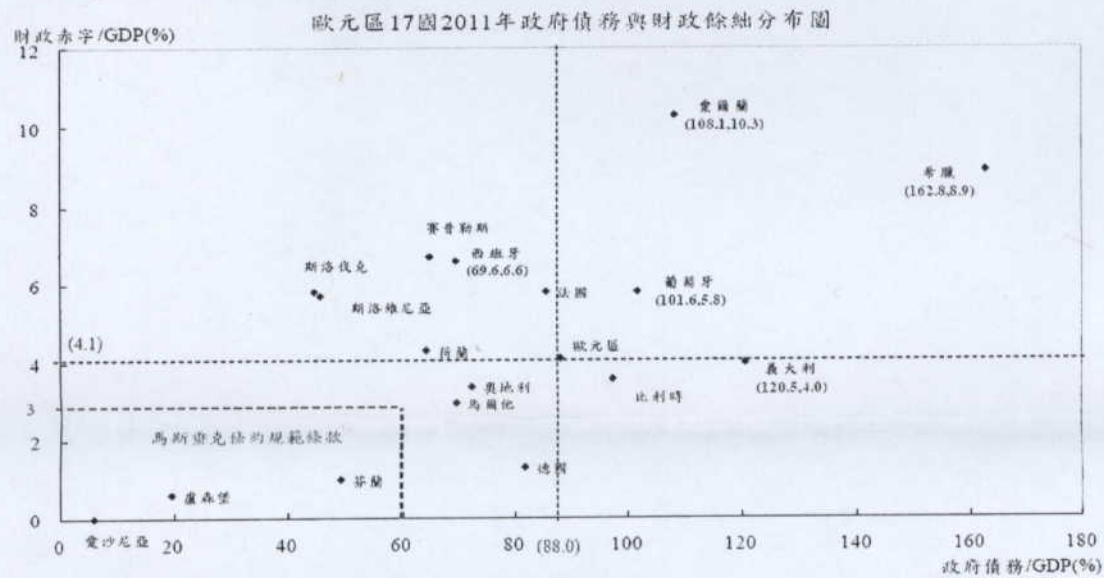
(第 1 頁共 7 頁) (限用答案本作答)

可使用計算機 不可使用計算機

問答題(四大題，占 100%)

一、請參考下圖並回答以下問題：

- (1) 請條列並說明歐債危機的成因？
- (2) 請說明歐盟的單一貨幣政策有利於自由貿易，但歐盟成員國各自的財政政策是否注定了歐盟的解體？(本大題共計 30%)



- 二、請參考圖 2，試說明歐債危機對臺灣實質經濟影響的傳遞管道為何？其如何影響臺灣的 GDP、失業率、匯率、進出口和股市？(本大題共計 30%)

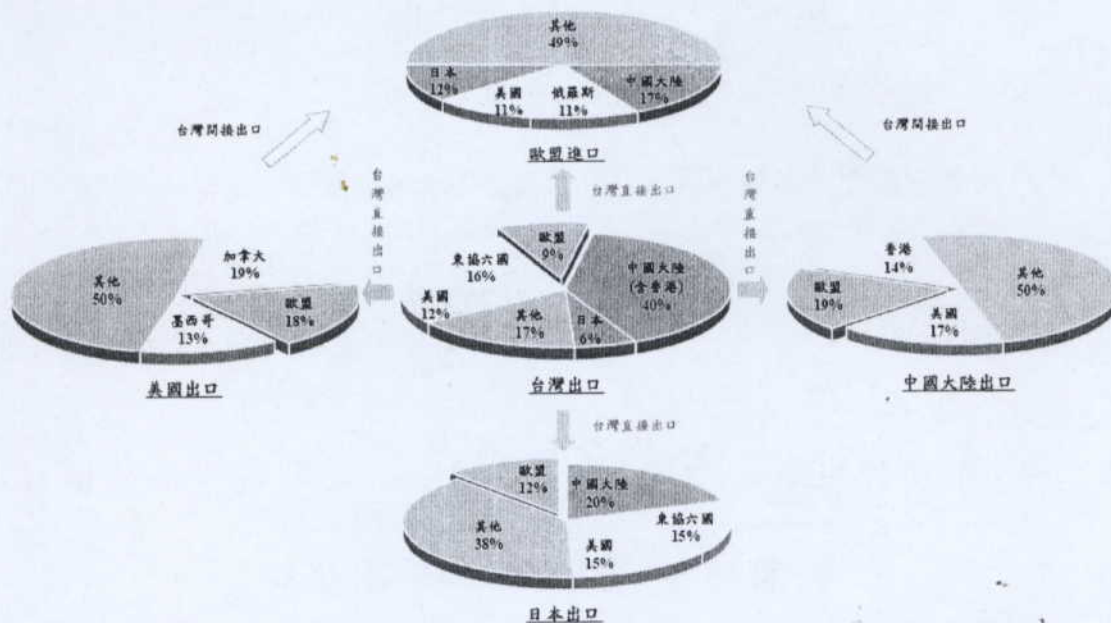


圖:2

本試題係兩面印刷
Exam Printed on 2 sides.

銘傳大學 101 學年度研究所碩士在職班招生考試

財務金融學系碩士在職專班

「財務金融分析與實務」試題

(第 2 頁共 2 頁) (限用答案本作答)

可使用計算機 不可使用計算機

三、 美國的 QE2(如圖 3-1)和歐盟的 LTRO(Long-Term Refinancing Operation)(如圖 3-2)都是貨幣量化寬鬆政策，請比較兩者的異同與優劣。(本大題占 25%)

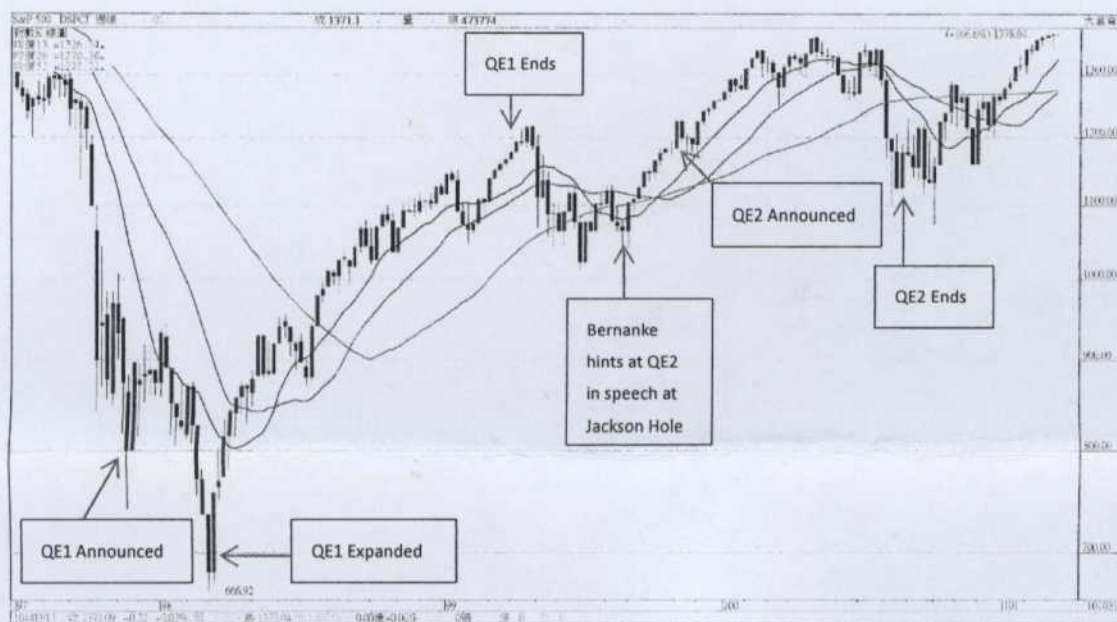


圖:3-1



圖:3-2

四、 相較於美歐日對金融機構的量化寬鬆貨幣政策，香港於 2008 年的次貸金融危機時為企業提供擔保，以利企業從銀行取得資金，進而保持住香港的實質經濟，而未花到香港政府的資金。香港的做法是否為解決歐債問題的較佳方法？(本大題占 15%)

本試題係兩面印刷
Exam Printed on 2 sides.

試題完
End of exam